

彰化縣立花壇國中 113 學年度第一學期九年級社會科補考題庫

1. (D) 巴西總統魯拉說，「沒有受到保護的(甲)雨林，世界就沒有氣候安全」；他承諾恢復過去四年被架空的所有稽查組織和監測系統，加強打擊環境犯罪行動，嚴厲懲罰任何非法採礦、伐木和農業活動者。(甲)是指何者？
(A)剛果 (B)巴拿馬 (C)印第安 (D)亞馬孫。
2. (B) 全球暖化所衍生的環境改變為下列何者？
(A)冰河面積增加 (B)海水面上升 (C)海岸線外移 (D)泥沙淤積旺盛。
3. (D) 屋大維曾自豪的說：「我接受了一座用磚建造的羅馬城，卻留下一座大理石的城。」用此來表示羅馬在他治理之下的安定繁榮局面。請問：屋大維是在接受哪一機構獻給他的「奧古斯都」尊號後，正式成為羅馬帝國皇帝？
(A)公民大會 (B)平民議會 (C)護民官 (D)元老院。
4. (D) 歐洲的西班牙與荷蘭都有如附圖中的風車建築，主要藉由其轉動所形成的動力來研磨小麥或排水，近年來則大力推廣以供發電使用。歐洲利於風車運轉的主要因素為下列何者？



- (A)暖流經過 (B)地勢高聳 (C)板塊活動 (D)西風吹拂。
5. (D) 文藝復興的原意是古典文化的再生與創造力的復興，其中的「古典文化」是指下列何者？
(A)西亞、埃及文化 (B)佛教、伊斯蘭文化 (C)中國的儒家文化 (D)古希臘與羅馬文化。
 6. (B) 小蓉找到一張世界各宗教的比較表如下，請找出(甲)、(乙)的正確答案分別為何？

	創立者	經 典
猶太教		《舊約》
佛 教	(甲)	
基督教	耶穌	《聖經》
伊斯蘭教	穆罕默德	(乙)

- (A)玄奘、《天方夜譚》 (B)釋迦牟尼、《古蘭經》 (C)釋迦牟尼、《新約》 (D)阿育王、《幾何原本》。
7. (D) 我國的外交部人員欲到俄羅斯首都開會，以擴展國際空間。請問：相關人員應該前往下列哪一個都市？
(A)布達佩斯 (B)華沙 (C)聖彼得堡 (D)莫斯科。
 8. (D) 小丸子整理科學革命時期下列各人物的重大成就，正確的有哪些？(甲)培根：提出「三大運動定律」(乙)牛頓：提出「萬有引力定律」(丙)笛卡兒：提出「我思故我在」(丁)哥白尼：強調演繹法的重要
(A)甲乙 (B)乙丁 (C)甲丁 (D)乙丙。
 9. (A) 附圖為某經濟組織內的活動狀況，請根據其特色加以判斷，該經濟組織應該為下列何者？



(A) EU (B) NU (C) WTO (D) APEC。

10. (A) 西元 16 世紀，曾經有一位科學家提出「太陽為宇宙中心」的觀點，說明地球並非宇宙的中心。請問：此科學家是下列何人？
(A)哥白尼 (B)笛卡兒 (C)伽利略 (D)牛頓。
11. (D) 英國小說家狄更斯的《孤雛淚》描述倫敦某一時期社會混亂不堪，童工受虐嚴重、救濟法案不足，貧民窟治安與環境糟糕，資本家與貴族獨占所有社會利益。《孤雛淚》的背景最有可能出現於下列何時？
(A)文藝復興 (B)科學革命 (C)啟蒙運動 (D)工業革命。
12. (C) 小珮心想若將這星期的零用錢拿去買偶像的 CD，就沒錢買《哈利波特——混血王子的背叛》這本小說，這個想法符合下列何種概念？
(A)資源無窮 (B)欲望有限 (C)機會成本 (D)選擇無限。
13. (B) 娜芙蒂蒂是某個民族歷史上著名的美女，根據考古學者的研究發現，娜芙蒂蒂和她的丈夫阿肯那頓法老在統治期間進行宗教改革，規定只能崇拜太陽神阿頓。請問：上述的娜芙蒂蒂是屬於哪一古文明民族？
(A)猶太 (B)埃及 (C)印度 (D)波斯。
14. (A) 地理位置影響當地的環境特色。請問：若僅考慮緯度高低和氣候變化的關係，則下列何者最為正確？
(A)緯度愈高，氣溫愈低 (B)緯度愈低，氣溫愈低 (C)緯度愈高，氣溫愈高 (D)緯度愈低，降水愈少。
15. (C) 「該國的工業活動和軍事發展關係密切，機械、通訊、大眾運輸等均相當發達，而生產的賓士汽車更受到世界各國的喜愛。」請問：上述中的國家應該為何？
(A)英國 (B)法國 (C)德國 (D)義大利。
16. (C) 18 世紀中期源於英國的工業革命，徹底改變了全人類的生產方式。請問：工業革命造成了什麼社會現象？
(A)人口往鄉村集中 (B)個人生產力降低 (C)工廠制度的普遍 (D)失業不再是社會問題。
17. (C) Netflix、迪士尼公司推出可觀賞電影、影集的網路平臺，屬於何種文化行銷全球？
(A)英式 (B)法式 (C)美式 (D)德式。
18. (D) 中南美洲的國家決定舉辦南方經濟高峰會議，邀請所有中南美洲的國家與會，共同討論農礦經濟的相關問題。請問：參加的國家中不包括下列何者？
(A)巴西 (B)阿根廷 (C)巴拿馬 (D)美國。
19. (D) 氣候災害對於地球環境的影響相當大，如森林素有生態基因庫的稱號，然而出現下列何種異常氣候現象時，容易造成野火蔓延，導致森林面積縮小？
(A)地震 (B)水災 (C)強風 (D)旱災。
20. (C) 「公民的唯一職業就是戰士，從一出生就受戰爭的訓練。經過部族首領的檢查之後，病弱的孩子被棄置於荒野，較為強壯的孩子才能得到撫養。所有的男孩子都在軍營裡受訓，一直到二十歲為止。訓練的目的是要使他們堅強、不怕痛苦、服從紀律。文化教育或科學教育都被認為是無意義的事，唯一的目的是要造就全心全意為了國家的好戰士。」由上文敘述可推


測，這是上古時期哪一城邦的公民？

(A)奧林匹亞 (B)雅典 (C)斯巴達 (D)特洛伊。

21. (D) 經緯線通常成為重要的分界線，如下列哪一大洲大致上以赤道及 180 度經線為界，畫分成三大群島？

(A)亞洲 (B)美洲 (C)非洲 (D)大洋洲。

22. (C) 李先生為電影工作者，在年假時前往美國電影重鎮取經，拍下當地最著名的地標如附圖所示。請問：李先生應是前往美國哪一個都市？



(A)紐約 (B)休士頓 (C)洛杉磯 (D)西雅圖。

23. (C) □□後期政治腐敗，於西元 4 世紀末，帝國分為東、西二部。請問：上文缺空處應填入列何者？

(A)波斯帝國 (B)亞歷山大帝國 (C)羅馬帝國 (D)蒙古帝國。

24. (D) 歐洲哪一個地區以山脈為地形骨幹，受到冰河作用的影響，冰蝕谷地相當發達，且在夏季時可以見到永晝現象？

(A)東歐 (B)西歐 (C)南歐 (D)北歐。

25. (C) 郝淳剛買入一棟新屋，在社群網站上詢問裝修變電箱的問題，附圖中這位網友建議的重點應為下列何者？

回覆

建議你找專業的水電師傅。自己動手雖然省錢，但是缺乏專業的知識和技術，可能造成漏電或是電線走火，甚至引發火災，這樣反而得不償失。

(A)一般而言，自行安裝施工品質較佳 (B)專業人士使用的施工材料成本較低 (C)自行施工可能要付出更大的成本代價 (D)由專業人士施工耗費的時間較長。

26. (C) 奕菁填寫一份問卷如附表所示，內容是關於如何選擇購買商品的管道，根據她的填答判斷，下列何項敘述正確？

管道	快送平臺	店面自取
商品價格	250 元	200 元
特點	送貨到府	自己前往
選擇意願	○	×
原因	較為便利	不願出門

(A)她的選擇是視商品價格高低而定 (B)所有消費者受到同樣的誘因影響 (C)她衡量的主因應屬於非金錢誘因 (D)店面調高價格將會改變她的選擇。

27. (C) 北歐國家緯度偏高，因此形成當地的發展特色。請問：位於北歐的國家中不包括下列何者？

(A)冰島 (B)芬蘭 (C)愛爾蘭 (D)挪威。

28. (B) 針對工業革命後，勞工階級生活貧苦，社會主義開始興起，希望人人都有公平生活的權利。其中馬克思提倡何種思想，希望解決貧富不均的問題？

(A)資本主義 (B)共產主義 (C)國家主義 (D)民族主義。

29. (C) 小名投資某國外基金，特色為「鄰近世界最廣大的消費市場，各種天然資源相當豐富，再加上連結太平洋及大西洋的航運路線，發展潛力十足。」請問：他投資的基金最可能為何？

(A)黑鑽非洲新世紀基金 (B)歐洲國家發展基金 (C)拉丁美洲森巴基金 (D)大中華圈聯合基金。






30. (D) 這群人對自身事物的關心遠大於對神學的好奇；這群人喜愛美的事物，也不吝於資助藝術創作與公共建設；這群人對古希臘、羅馬文化展現高度興趣；他們精通拉丁文，但也使用各地方言進行創作。請問：上述「這群人」活躍的時間應該是何時？

(A)古羅馬時期 (B)希臘化時期 (C)西羅馬帝國時期 (D)文藝復興時期。

31. (B) 俄羅斯為世界面積最大的國家。請問：該國的疆域以烏拉爾山為界，分為下列哪兩個地區？

(A)中亞、西伯利亞 (B)歐俄、西伯利亞 (C)南歐、西伯利亞 (D)歐俄、中亞。

32. (B) 附圖中此種文字的特色是象形與拼音的組合，因為較難書寫，經過簡化後，傳到地中海一帶，經腓尼基人改良後傳入歐洲。請問：這應是上古哪一民族的文字？

A	
B	
C	
D	
E	

(A)蘇美人 (B)埃及人 (C)波斯人 (D)巴比倫人。

33. (B) 國內近年來吹起了一股時尚風潮，許多精品在臺灣的銷售情況甚佳。請問：國人喜愛的路易·威登 (LV) 是哪一國的知名品牌？

(A)義大利 (B)法國 (C)美國 (D)英國。

34. (B) 美國利用哪些方式來降低農業的生產成本，以增加產品的競爭力，成為最重要的穀物生產國？

(甲)降低工資(乙)水利建設(丙)機械化高(丁)單一作物

(A)甲乙 (B)丙丁 (C)甲丁 (D)乙丙。

35. (C) 貝克和他的家人要到帛琉度假，欣賞當地純淨無污染的海洋景觀。請問：他在查詢該國的旅遊資料時，應該選擇哪一個地區？

(A)亞洲 (B)歐洲 (C)大洋洲 (D)美洲。

36. (B) 北美洲的經濟活動相當發達，更是全球農產品出口量最高的地區，成為當地重要的收入來源。下列有關當地農業活動的特色敘述中，何者不正確？

(A)機械化程度高 (B)作物種類眾多 (C)農業科技進步 (D)農場規模龐大。

37. (C) 孫媽買了一棟在市區的新房子，對於房子的用途，她有三種選擇：一是自己住，二是出租給上班族，三是自己開店；而自己住沒有收入，出租的租金是每個月2萬元，自己開店則可以淨賺5萬元。此時若不考慮其他條件，只考慮每個月的收入，則新房子如何使用才是孫媽機會成本最低的選擇？

(A)自己住 (B)出租給上班族 (C)自己開店 (D)空下來，不做任何用途。

38. (C) 近年來，俄羅斯的經濟快速發展，但在世界政治上的影響力卻逐漸減弱。昔日同為計畫經濟的東歐國家，近年來多受到哪一個組織的影響而和俄羅斯漸行漸遠？

(A)石油輸出國家組織 (B)亞太經濟合作會議 (C)歐洲聯盟 (D)東南亞國協。

39. (C) 歷史上有一位國王因為想另娶他人，卻因為元配為西班牙公主，羅馬教廷害怕得罪西班牙，遲遲不肯同意國王原本的婚姻無效，最後國王憤而脫離羅馬教廷另立教派。請問：上述事件發生在何地？

(A)法國 (B)瑞士 (C)英國 (D)日耳曼。

40. (A) 企業在世界各地設立工廠或分公司，稱之為跨國企業。請問：企業採取這種營運方式最主要目的為何？

(A)降低生產成本 (B)擴展國內市場 (C)節省產品包裝 (D)降低溫室效應。

41. (A) 好萊塢新片敘述前美國中央情報局 (CIA) 的幹員斯諾登曾將美國進行監聽的祕密檔案披露給

了媒體，因此遭到英、美兩國的通緝。他從美國先逃到香港，而後前往莫斯科，獲得俄羅斯的居留許可證。請問：斯諾登從香港飛往莫斯科的方向為何？

(A)↖ (B)↗ (C)↘ (D)↙。

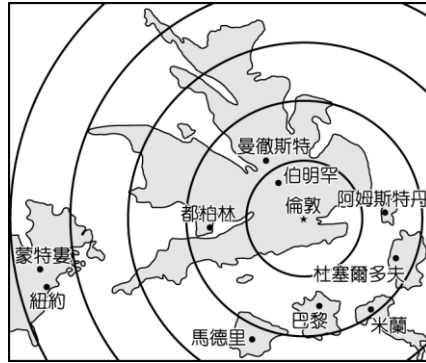
42. (D) 基督教創立初期，備受羅馬政府的打壓，主要是基督徒哪項行為所致？

(A)意圖顛覆羅馬帝國 (B)不向國家納稅 (C)批評時政 (D)拒絕膜拜羅馬皇帝。

43. (C) 薇琪想要區分「自由財」和「經濟財」的差別，因此她先舉出「自由財」的例子，下列何者應是她所舉的例子？

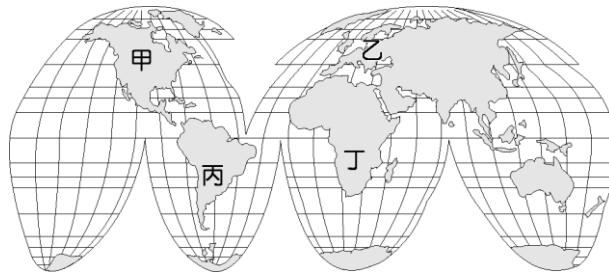
(A)空汙嚴重地區的「清潔空氣」 (B)連年乾旱國家的「民生用水」 (C)晒乾陽臺衣物的「溫暖陽光」 (D)工作整年得到的「年終獎金」。

44. (A) 附圖是利用平均旅行時間作為比例尺，以英國倫敦為中心所繪製的地圖。請問：若依圖中位置判斷，倫敦至蒙特婁的交通必須經過下列哪一個海洋？



(A)大西洋 (B)太平洋 (C)印度洋 (D)北極海。

45. (A) 曉明住在花蓮，想挑戰越洋風帆的刺激。他由臺灣東側的海岸出發，一路橫渡北半球的太平洋海域，曉明在太平洋彼側的登陸地點最可能為附圖中何處？



(A)甲 (B)乙 (C)丙 (D)丁。

46. (B) 小丸子將三個西方早期大帝國，依建立的先後順序排列，下列何者正確？(甲)亞歷山大帝國 (乙)波斯帝國(丙)羅馬帝國

(A)乙丙甲 (B)乙甲丙 (C)丙甲乙 (D)甲乙丙。

47. (C) 食品工廠計畫推出四種料理包產品，附表是試賣期間的銷售結果統計。根據表中內容判斷，該工廠選擇生產何種產品的獲利最高？

產品	銷售量 (箱)	成本 (元/包)	售價 (元/包)
甲	1,000	80	100
乙	1,000	85	120
丙	1,000	90	110
丁	1,000	110	125

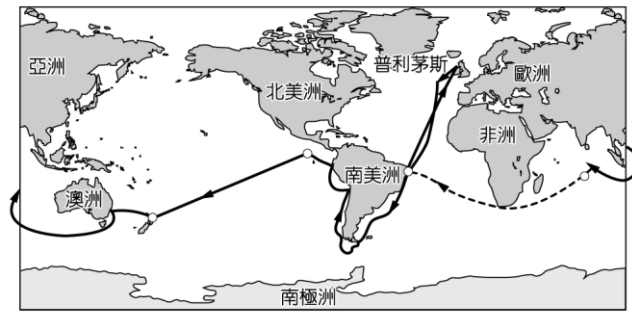
(註：一箱裝 24 包)

(A)甲 (B)乙 (C)丙 (D)丁。

48. (C) 亞馬孫河及剛果河為世界流域面積最大的兩條河川，其共同的特色為下列何者？

(A)皆位於非洲境內 (B)皆為高原地形 (C)皆屬於熱帶雨林氣候 (D)皆位於北回歸線上。

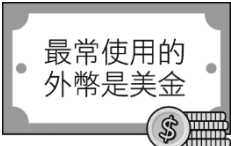
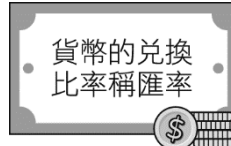
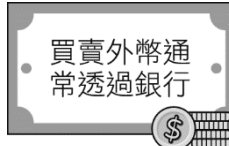
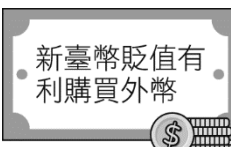
49. (B) 英國艦艇由該國沿海的港口——普利茅斯出發，開啟了環遊世界的旅程，若根據附圖中資料判斷，該艦前往南美洲時須經過哪一個海洋？



- (A)地中海 (B)大西洋 (C)太平洋 (D)印度洋。
50. (B) 澳大利亞及紐西蘭為國人喜愛的旅遊地點，這兩個國家共同濱臨哪一個海洋？
(A)大西洋 (B)太平洋 (C)印度洋 (D)地中海。
51. (C) 附表是阿孟選擇工作的薪資考量條件。若他選擇到甲公司工作，那麼他的機會成本是多少？

公司	年收入
甲	130 萬元
乙	100 萬元
丙	110 萬元
丁	90 萬元

- (A) 90 萬元 (B) 100 萬元 (C) 110 萬元 (D) 130 萬元。
52. (A) 俄羅斯以哪一座山當分界，分成歐俄平原和西部西伯利亞平原兩部分？
(A)烏拉爾山 (B)高加索山 (C)阿爾卑斯山 (D)唐努烏拉山。
53. (D) 近代工業發展，大量排放溫室氣體，加劇溫室效應，產生全球暖化現象。下列哪個環境問題與全球暖化無直接關係？
(A)兩極地區冰川融化 (B)海水淹沒低窪地區 (C)水旱災頻率增加 (D)沿海地區地層下陷。
54. (C) 分工生產的模式已逐漸成為現代社會的主流，下列何者為其主要優點？
(A)群居的生活形態變得日趨簡單安定 (B)頻繁交易有助於促進個人自給自足 (C)可用較低成本換取較高品質的產品 (D)個人所需的日常物品隨之逐漸減少。
55. (A) 智慧型手機和平板電腦上的 APP 應用軟體商機無限，政府開辦智慧型手機 APP 軟體設計班，培訓青年撰寫程式，希望能提高民眾就業機會。請問：政府開辦職業訓練課程，最主要的目的是讓準備就業者具備何項條件？
(A)工作能力 (B)工作經驗 (C)學經歷背景 (D)創意個人特色。
56. (D) 知名媒體人費爾曼的新書《世界又熱、又平、又擠》，以其精闢入微的觀察道出人類發展的危機，其中「又擠」指的是世界各國經濟發展後，環境負載力大幅提高，因此人口增加快速。請問：上述說法較不適合用在下列哪一個已開發國家？
(A)英國 (B)臺灣 (C)日本 (D)澳洲。
57. (D) 珮瑜是小資族，想透過買賣外幣投資理財，於網路上搜尋新手投資外幣懶人包下載觀看。下列懶人包的內容中，何者敘述有誤？

- (A)  最常使用的外幣是美金
- (B)  貨幣的兌換比率稱匯率
- (C)  買賣外幣通常透過銀行
- (D)  新臺幣貶值有利購買外幣

58. (B) 薇琪暑假到某城市旅遊，導遊說：「因為這個城市曾被亞歷山大帝國、羅馬帝國及伊斯蘭教政權等統治過，所以它是一個具有多種文化特色的城市。」依此推斷，導遊所說的最可能是

下列哪一個城市？

(A)義大利米蘭 (B)土耳其伊斯坦堡 (C)英國倫敦 (D)法國巴黎。

59. (D) 義大利能夠在 14 世紀發展出文藝復興運動的原因，包含下列哪些因素？

甲、位居東西貿易文化交流的要衝；乙、古典翻譯典籍的傳入；丙、農村居民支持；丁、發展印刷術

(A)甲乙丙 (B)甲乙丁 (C)甲丙丁 (D)乙丙丁。

60. (D) 小雯出國參觀某地建築，發現其內部設計別具特色（如圖）。請問：這座建築建造的時間地點，最可能為下列何者？



(A)西元前 5 世紀，印度 (B)西元前 1 世紀，羅馬 (C)8 世紀，巴格達 (D)12 世紀，英國。